



وزارة التربية

الإدارة العامة لمنطقة الجهاد التعليمية

اختبار نهاية الفصل الدراسي الأول

٢٠٢٠ / ٢٠١٩

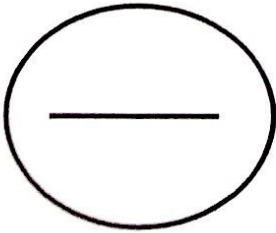
تعليم الكبار ومحو الأمية



السابع	الصف
الاجتماعيات	المادة

رقم السؤال	الدرجة	المصحح	المراجع
السؤال الأول			
السؤال الثاني			
السؤال الثالث			
السؤال الرابع			
السؤال الخامس			
السؤال السادس			
السؤال السابع			
السؤال الثامن			
السؤال التاسع			
السؤال العاشر			
المجموع			

الدرجة بالحروف :





وزارة التربية
الإدارة العامة لمنطقة الجهاد التعليمية
التوجيه الفني للاجتماعيات
امتحان نهاية الفترة الدراسية الأولى
للمعلمين (تعليم كبار)
الكويت والوطن العربي
العام الدراسي 2019 / 2020م
الزمن : ساعة ونصف
عدد الورق : (6)

السؤال الأول : (موضوعي) يتكون من (أ - ب - ج - د - هـ - و) لكل نقطة درجة

أ - اختر الإجابة الصحيحة من بين البدائل التالية

- 1 - الدولة العربية التي تقع خارج نطاق الوطن العربي دولة تسمى (جيبوتي - اليمن - جزر القمر - الصومال)
- 2 - يمتد القسم الأكبر من الوطن العربي في قارة (آسيا - أفريقيا - أوروبا - استراليا)
- 3 - القارة المجاورة للوطن العربي من جهة الشمال (أوروبا - أمريكا الشمالية - استراليا - آسيا)
- 4 - تقع هضبة نجد في دولة عربية تسمى (المملكة العربية السعودية - الكويت - الجزائر - اليمن)
- 5 - عرفت حضارة جنوب غرب شبه الجزيرة العربية الحروف الأبجدية التي تتألف من (27 حرفا - 28 حرفا - 29 حرفا - 30)

ب - أكمل العبارات التالية بما يناسبها فيما درست

- 1 - ظهرت في بلاد الرافدين شرائع قانونية قديمة عده أهمها تشريعية
- 2 - عرفت الكتابة المصرية القديمة بالكتابة
- 3 - سفينة الصحراء تطلق على حيوان يسمى
- 4 - تنتشر حشائش الإستبس في دولة عربية تسمى
- 5 - كانت البحرين تسمى قديما قبل الفتح الإسلامي باسم

ج انسب الكلمات التالية الى مكانها المناسب في الجدول

جبل طوبقال - جبال مره - جبال قاسيون - جبال الأحجار - جبال الحجاز

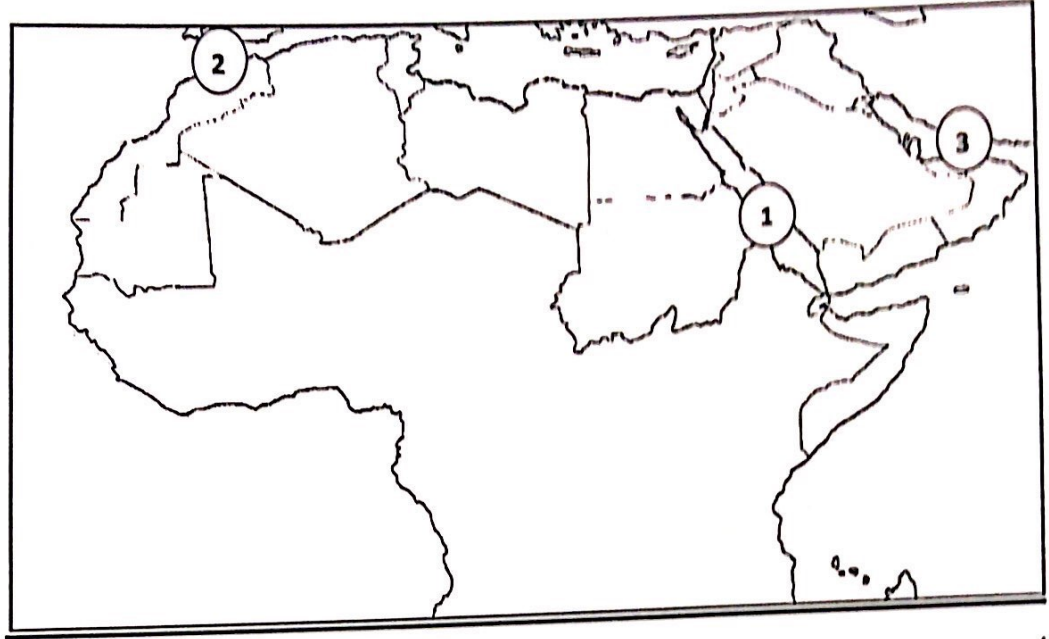
الجزائر	السعودية	المغرب	السودان	سوريا

د - اكتب المفاهيم والمصطلحات الدالة على العبارات التالية

- 1 - (.....) مجموعة من الدول العربية التي يجمعها عدد من السمات المشتركة كالدين واللغة
 - 2 - (.....) هو نقطة من الكره الأرضية يتحدد موقعها بخطوط الطول ودوائر العرض
 - 3 - (.....) مساحة كبيرة من سطح الأرض تتميز باستوائها وقلة ارتفاعها
 - 4 - (.....) كل ما يطرأ على المجتمع من تقدم وتطور وراقي في جميع نواحي الحياة الدينية والسياسية والاقتصادية والاجتماعية والفكرية
 - 5 - (.....) وهي التي نزلت على سيدنا عيسى بمريم عليه السلام وكتابها الإنجيل
- هـ - اختر من المجموعة (أ) ما يرتبط بها من المجموعة (ب) بوضع الرقم المناسب

ع	المجموعة (أ) المعلم الحضاري	الرقم المناسب	المجموعة (ب) حضارات الوطن العربي
1	الأهرامات		العراق
2	معبد با بار		اليمن
3	آثار تدمر		مصر
4	أسد بابل		دلمون
5	سد مأرب		بلاد الشام
			مجان

و - أمامك خريطة للوطن العربي نفذ المطلوب منها:-

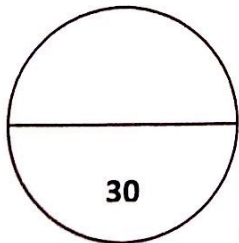


أولاً :- اكتب مدلولات الأرقام التالية :-

- 1 - مضيق جبل طارق يحمل رقم
- 2 - البحر الذي يفصل بين الجناح الآسيوي عن الجناح الأفريقي يحمل رقم

ثانياً :- استخدم الرموز التالية للتحديد على الخريطة

- الخليج العربي ▲
- رياح السموم ←
- ظلل دولة الصومال



مس ولاء صلاح / قناة هالة

السؤال الثاني يتكون من (أ - ب - ج)

أ - فرق حسب الجدول

القناة	المضيق
المياه الجوفية	الأفلاج

ب - علل لما يأتي :-

1 - حرص المصريين القدماء على تحنيط جثث موتاهم؟

.....

2 - ازدهار الزراعة في بلاد الرافدين؟

.....

3 - الأهمية الاقتصادية للوطن العربي؟

.....

ج - عدد ما يلي :-

1 - العوامل الرئيسية المؤثرة في تنوع النباتات الطبيعي في الوطن العربي؟

.....

.....

2 - عوامل قيام الحضارة ؟

يكتفي باثنين

.....

.....

3 - مراكز إشعاع انتقال الحضارة العربية إلى أوروبا؟

.....

.....

السؤال الثالث يتكون من (أ - ب - ج)

أ - اقرأ الفقرة التالية ثم اجب عما يليها من أسئلة :

اخترع السومريون نوعاً من الكتابة عرفت باسم الكتابة المسمارية وتعد هذه الكتابة من أقدم أنواع الكتابة في العالم وحروفها تشبه المسمار وتكتب على ألواح من الطين الطري بواسطة أقلام تشبه المسامير وعدد حروفها 600 حرف

1 - ضع نواناً مناسباً للفقرة ؟

2 - ماذا تشبه حروف الكتابة المسمارية ؟

3 - ما الأدوات المستخدمة في الكتابة المسمارية؟

4 - كم يبلغ حروف الكتابة المسمارية؟

ب - اجب عما يلي :

1 - العوامل التي تؤثر في مناخ الوطن العربي ؟
يكتفي باثنين

2 - الأهمية الاقتصادية لأشجار الغابات المدارية الحارة؟

3 - أهم الأماكن المقدسة في الوطن العربي ؟

ج - عرف المفاهيم والمصطلحات التالية :

10

1 - الجبل :-

2 - الهضبة :-

3 - النبات الطبيعي :-

مس ولاء⁵ صلاح / قناة هالة

السؤال الرابع يتكون من (أ - ب - ج) :-
أ - قارن بين خطوط الطول ودوائر العرض

دوائر العرض	خطوط الطول	أوجه المقارنة
		العدد
		الخط الرئيسي
		الأهمية

ب اذكر اثنين لكل مما يلي :-

1 - أهم أشجار الغابات المعتدلة ؟

.....

2 - مصادر المياه في الوطن العربي ؟

.....

3 - العوامل التي ساعدت على قيام الحضارة المصرية ؟

.....

4 - حضارات بلاد اليمن ؟

.....

ج لاحظ نسبة استخدام المياه المحلاة فالبلدان العربية ثم اجب على بعض التساؤلات التي تليه

الدولة	النسبة
الكويت	%55
قطر	%38
البحرين	%31
الإمارات	%27
السعودية	%8
ليبيا	%5

1 - أكثر الدول العربية إنتاجاً للمياه المحلاة

2- اتجاه عدد من الدول العربية الى البحر لتأمين حاجاتها من المياه العذبة ؟

.....

مس ولاء صلاح / قناة هالة

أنتهت الأسئلة